

Тренировочная работа № 9

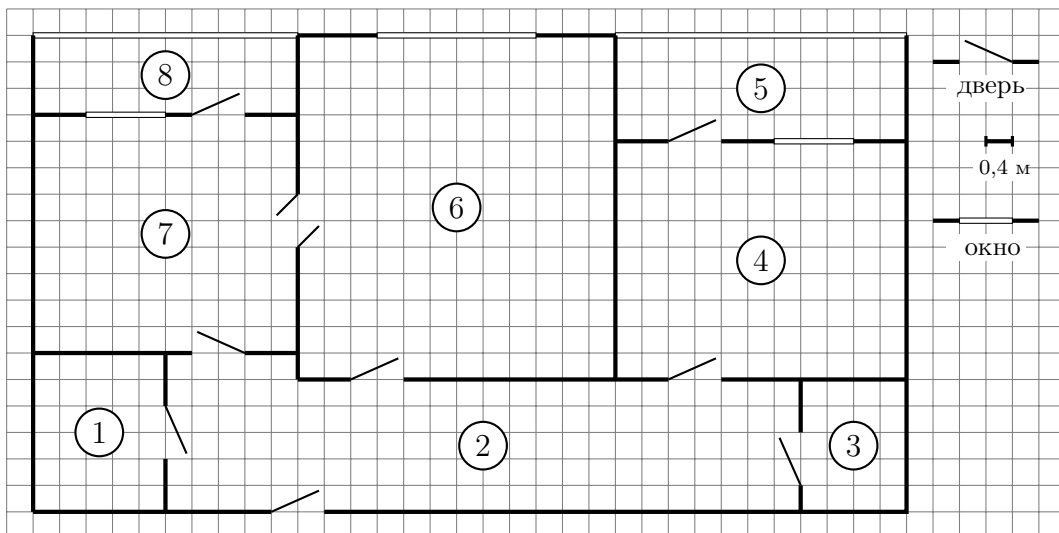
Часть № 1

Ответами к заданиям 1–19 являются число или последовательность цифр, которые следует записать в БЛАНК ОТВЕТОВ № 1 справа от номера соответствующего задания, начиная с первой клеточки. Если ответом является последовательность цифр, то запишите её без пробелов и других дополнительных символов. Каждый символ пишите в отдельной клеточке в соответствии с приведёнными в бланке образцами.

Прочитайте внимательно текст и выполните задания.

На рисунке изображён план двухкомнатной квартиры в многоэтажном жилом доме. Сторона одной клеточки на плане соответствует 0,4 м, а условные обозначения двери и окна приведены в правой части рисунка.

Вход в квартиру находится в коридоре. Слева от входа в квартиру находится санузел, а в противоположном конце коридора — дверь в кладовую. Рядом с кладовой находится спальня, из которой можно пройти на одну из застеклённых лоджий. Самое большое по площади помещение — гостиная, откуда можно попасть в коридор и на кухню. Из кухни также можно попасть на застеклённую лоджию.



1 Для объектов, указанных в таблице, определите, какими цифрами они обозначены на плане. Заполните таблицу, в бланк перенесите последовательность четырёх цифр без пробелов, запятых и других дополнительных символов.

Объекты	коридор	санузел	спальня	гостиная
Цифры				

Ответ:

2 Паркетная доска размером 40 см на 40 см продаётся в упаковках по 12 штук. Сколько упаковок плитки понадобилось, чтобы выложить пол на обеих лоджиях?

Ответ:

3

Найдите площадь спальни. Ответ дайте в квадратных метрах.

Ответ:

4

На сколько процентов площадь санузла больше площади кладовой?

Ответ:

5

В квартире планируется установить стиральную машину. Характеристики стиральных машин, условия подключения и доставки приведены в таблице. Планируется купить стиральную машину с фронтальной загрузкой вместимостью не менее 6 кг.

Модель	Вместимость барабана (кг)	Тип загрузки	Стоимость (руб.)	Стоимость подключения (руб.)	Стоимость доставки (% от стоимости машины)	Габариты (высота × ширина × глубина, см)
А	7	верт.	28 000	1700	бесплатно	85 × 60 × 45
Б	5	фронт.	24 000	4500	10	85 × 60 × 40
В	5	фронт.	25 000	5000	10	85 × 60 × 40
Г	6,5	фронт.	24 000	4500	10	85 × 60 × 44
Д	6	фронт.	28 000	1700	бесплатно	85 × 60 × 45
Е	6	верт.	27 600	2300	бесплатно	89 × 60 × 40
Ж	6	верт.	27 585	1900	10	89 × 60 × 40
З	6	фронт.	20 000	6300	15	85 × 60 × 42
И	5	фронт.	27 000	1800	бесплатно	85 × 60 × 40
К	5	верт.	27 000	1800	бесплатно	85 × 60 × 40

Сколько рублей будет стоить наиболее дешёвый подходящий вариант вместе с подключением и доставкой?

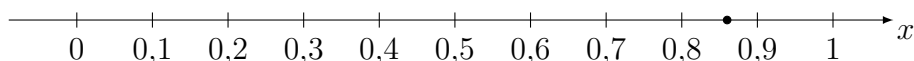
Ответ:

6

Найдите значение выражения $8,3 + 5,4$ Ответ:

7

Одно из чисел $\frac{2}{7}$, $\frac{6}{7}$, $\frac{8}{7}$, $\frac{13}{7}$ отмечено на прямой. Какое это число?



1) $\frac{4}{7}$;

2) $\frac{6}{7}$;

3) $\frac{8}{7}$;

4) $\frac{13}{7}$.

Ответ:

8

Найдите значение выражения $(\sqrt{125} + \sqrt{5}) \cdot \sqrt{5}$.Ответ:

9 Найдите корень уравнения $5(x + 4) = -9$.

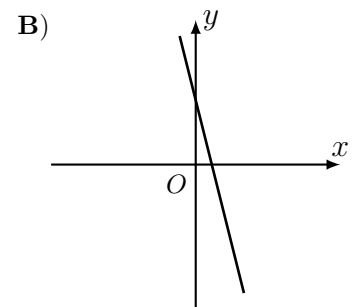
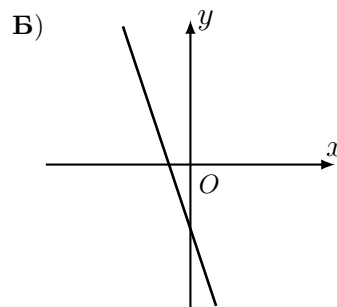
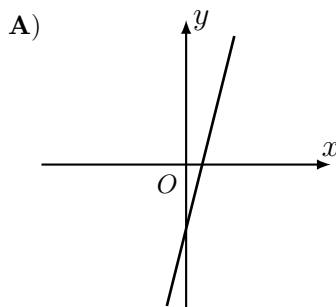
Ответ:

10 У бабушки 15 чашек: 9 с красными цветами, остальные с синими. Бабушка наливает чай в случайно выбранную чашку. Найдите вероятность того, что это будет чашка с синими цветами.

Ответ:

11 На рисунках изображены графики функций вида $y = kx + b$. Установите соответствие между графиками функций и знаками коэффициентов k и b .

ГРАФИКИ



КОЭФФИЦИЕНТЫ

- 1) $k < 0, b < 0$; 2) $k > 0, b < 0$; 3) $k < 0, b > 0$.

В таблице под каждой буквой укажите соответствующий номер.

А	Б	В

В ответе укажите последовательность трёх цифр.

Ответ:

12 Площадь четырёхугольника можно вычислить по формуле $S = \frac{d_1 d_2 \sin \alpha}{2}$, где d_1 и d_2 — длины диагоналей четырёхугольника, α — угол между диагоналями. Пользуясь этой формулой, найдите длину диагонали d_2 , если $d_1 = 6$, $\sin \alpha = \frac{1}{11}$, а $S = 3$.

Ответ:

13 Укажите неравенство, решение которого изображено на рисунке.



- 1) $x^2 + 64 \geq 0$; 3) $x^2 - 64 \geq 0$;
 2) $x^2 - 64 \leq 0$; 4) $x^2 + 64 \leq 0$.

Ответ:

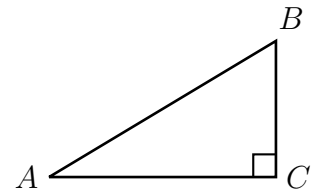
14

В ходе биологического эксперимента в чашку Петри с питательной средой поместили колонию микроорганизмов массой 13 мг. За каждые 30 минут масса колонии увеличивается в 3 раза. Найдите массу колонии микроорганизмов через 90 минут после начала эксперимента. Ответ дайте в миллиграммах.

Ответ:

15

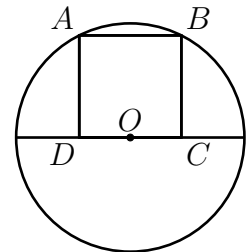
В треугольнике ABC угол C равен 90° , $\cos B = \frac{2}{5}$, $AB = 10$. Найдите BC .



Ответ:

16

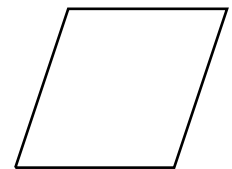
Точка O является серединой стороны CD квадрата $ABCD$. Радиус окружности с центром в точке O , проходящей через вершину A , равен 2. Найдите площадь квадрата $ABCD$.



Ответ:

17

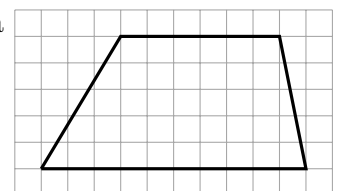
Один из углов ромба равен 93° . Найдите меньший угол этого ромба. Ответ дайте в градусах.



Ответ:

18

На клетчатой бумаге с размером клетки 1×1 изображена трапеция. Найдите длину её средней линии.



Ответ:

19

Какое из следующих утверждений является истинным высказыванием?

- 1) Треугольник со сторонами 1, 2, 4 существует.
- 2) Диагонали ромба точкой пересечения делятся пополам.
- 3) Две прямые, перпендикулярные третьей прямой, перпендикулярны.

В ответ запишите номер истинного высказывания.

Ответ:

Часть № 2

При выполнении заданий 20–25 используйте БЛАНК ОТВЕТОВ № 2. Сначала укажите номер задания, а затем запишите его решение и ответ. Пишите чётко и разборчиво.

20

Решите неравенство $\frac{-10}{(x-3)^2-5} \geq 0$.

21

Велосипедист выехал с постоянной скоростью из города А в город В, расстояние между которыми равно 209 км. На следующий день он отправился обратно в А, увеличив скорость на 8 км/ч. По пути он сделал остановку на 8 часов, в результате чего затратил на обратный путь столько же времени, сколько на путь из А в В. Найдите скорость велосипедиста на пути из В в А.

22

Постройте график функции

$$y = \frac{(x^2 + x)|x|}{x + 1}.$$

Определите, при каких значениях m прямая $y = m$ не имеет с графиком ни одной общей точки.

23

Биссектрисы углов A и B при боковой стороне AB трапеции $ABCD$ пересекаются в точке F . Найдите AB , если $AF = 32$, $BF = 24$.

24

Внутри параллелограмма $ABCD$ выбрали произвольную точку F . Докажите, что сумма площадей треугольников BFC и AFD равна половине площади параллелограмма.

25

В треугольнике ABC биссектриса BE и медиана AD перпендикулярны и имеют одинаковую длину, равную 44. Найдите стороны треугольника ABC .